

7.
SINIF



T.C.
MİLLÎ EĞİTİM BAKANLIĞI

KİTAPÇIK TÜRÜ

A

7. SINIF SEVİYE BELİRLEME SINAVI SORU KİTAPÇIĞI
22 HAZİRAN 2008 Saat: 10.00

Adayın Adı ve Soyadı :

Aday No (T.C. Kimlik No) :

DİKKAT: 1. Soru kitapçıklarını kontrol ederek, baskı hatası olan kitapçığın değiştirilmesi için salon sorumlularına başvurunuz.
2. Soru kitapçığının ön ve arka yüzündeki açıklamaları okuyunuz.
3. Sınavda hesap makinesi, cep telefonu ve çağrı cihazı kullanılması yasaktır. Bu cihazları sınav başlamadan önce salon başkanına teslim ediniz.

CEVAP KÂĞIDI İLE İLGİLİ AÇIKLAMA

1. Cevap kâğıdı üzerine yapacağınız işaretlemelerde siyah kurşun kalemden başka kalem kullanmayınız.
2. **Cevap kâğıdındaki bilgilerin size ait olup olmadığını kontrol ediniz.** Cevap kâğıdı kullanılamayacak durumdaysa veya size ait değilse verilecek yedek cevap kâğıdına, kimliğinizle ilgili bilgileri, salon başkanının açıklamalarına göre yazınız.
3. **Kitapçık türünü cevap kâğıdınızın ilgili bölümüne mutlaka işaretleyiniz.**
4. Cevap kâğıdında **TÜRKÇE, MATEMATİK, FEN ve TEKNOLOJİ, SOSYAL BİLGİLER ve YABANCI DİL (İNGİLİZCE, ALMANCA, FRANSIZCA, İTALYANCA)** testleri için beş ayrı sütun bulunmaktadır. Cevaplarınızı cevap kâğıdındaki ilgili sütunlara aşağıdaki örnekte olduğu gibi yuvarlağı, dışına taşırılmadan işaretleyiniz.
Yanlış karalamalarınızı düzeltirken yuvarlağın içini temizce siliniz.

ÖRNEK KODLAMA

(A) (B) (C) (D)

SORU KİTAPÇIĞI İLE İLGİLİ AÇIKLAMA

1. Bu soru kitapçığında **TÜRKÇE testinde 21, MATEMATİK testinde 18, FEN ve TEKNOLOJİ testinde 18, SOSYAL BİLGİLER testinde 18 ve YABANCI DİL (İNGİLİZCE, ALMANCA, FRANSIZCA, İTALYANCA) testinde 15** olmak üzere toplam **90** soru bulunmaktadır. Kitapçığın tümü için verilen cevaplama süresi **100 dakikadır**.
2. Her sorunun dört seçeneğı vardır. Dört seçenekten sadece bir tanesi doğru cevaptır. Doğru bulduğunuz seçeneğı cevap kâğıdında o soru için ayrılan yerde bularak işaretleyiniz.
3. Size ayrı bir karalama kâğıdı verilmeyecektir. Soru kitapçığının içindeki boş alanları karalama yapmak için kullanabilirsiniz.
4. Cevabını bilmediğiniz sorular üzerinde fazla zaman kaybetmeden diğer sorulara geçiniz. Zamanınız kalırsa bu sorulara daha sonra dönebilirsiniz.
5. Puanlamada her soru grubu için yanlış cevap sayısının **üçte biri, doğru cevap sayısından çıkarılarak** geçerli cevaplara karşı gelen ham puan tespit edilecektir. Bu nedenle rastgele cevaplama yapmayınız.
6. Sınavın bitiminde cevap kâğıdınızı ve soru kitapçığınızı salon sorumlularına teslim etmeyi unutmayınız.

BAŞLAYINIZ DENİLMEYEN SORU KİTAPÇIĞINI AÇMAYINIZ.

1.

	B	E	Y	A	Z	A	K
→	A	R	O	L	A	T	A
	M	İ	S	A	F	İ	R
	Y	K	U	N	E	K	A
	A	Ü	N	I	R	A	F

Aşağıdaki altı çizili kelimelerden hangisinin eş anlamlısı bu bulmacada yoktur?

- A) Yine güler yüzle konuklarını ağırlıyorlar.
 B) Bu hatırayı anlatırken gözleri yaşarmıştı.
 C) İri siyah gözleriyle bana bakıyordu.
 D) Zamanı istediğimiz gibi kullanma olanağımız var.

2. Bir gün Nasrettin Hoca'ya bir minareyi gösterip "Hoca! Bu nedir?" diye sormuşlar. "Yaş kuyudur." demiş. "Güneşe çıkartmış, kurutuyorlar." Bu fıkrada aşağıdakilerden hangisi yoktur?

- A) Benzetme
 B) Onaylama
 C) Karşılaştırma
 D) Açıklama

3.



(1) "Sol Ayağım" 100 Temel Eser içerisinde yer alan kitaplardan biridir. (2) Sürükleyici, eğlenceli ve ilham verici bir cesaret öyküsüdür. (3) Beyin felciyle dünyaya gelmiş ve tekerlekli sandalyeye bağlı olarak yaşamış Christy Brown tarafından yazılmıştır. (4) Yazar, bu eserinde sol ayak parmaklarıyla yazmayı, resim yapmayı ve daktilo kullanmayı çocukluğunda nasıl öğrendiğini anlatmaktadır.

Fatih, okuduğu kitabı tanıtırken "kendi duygu ve düşüncelerini" hangi cümlede ifade etmiştir?

- A) 1
 B) 2
 C) 3
 D) 4

4. Bir sanatçı ve onun eseri hakkında konuşan aşağıdaki çocuklardan hangisi mecaz anlamlı bir sözcük kullanmıştır?

A)



Cahit Zarifoğlu, bu eserinde bizlere aydınlık öyküler sunuyor.

B)



Yazar, çocukların duygu ve düşüncelerini öykülerle anlatmış.

C)




Eserde sekiz öykü var.

D)



Ben de bir an önce bu eseri okuyacağım.

5. 1. Sazın, sağ bacağınız ile vücudunuzun birleştiği bölgeye yerleştiriniz.
2. Sazın sapını yukarı kaldırmak için sağ kolunuzu sazın üstüne koyarak hem yere hem de vücudunuza doğru bir kuvvet uygulayınız.
3. Sol elinizle sapı tuttuktan sonra, artık sağ elinizle sazınızı çalabilirsiniz.
4. Sazdan temiz ve güzel bir ses çıkarmak için ilk şart onu doğru tutmaktır.
5. Bu amaçla vücut yapınıza uygun bir sandalyeye dik olarak oturunuz.



Sazın resimdeki gibi tutulması için, numaralandırılmış cümleler hangi sırayla okunmalıdır?

- A) 2 – 3 – 4 – 5 – 1
B) 3 – 4 – 5 – 1 – 2
C) 4 – 5 – 1 – 2 – 3
D) 5 – 1 – 3 – 2 – 4

6. Bir ebeleme oyunudur. Yedi kişi ile oynanır. Ebe, diğer çocukları yakalamaya çalışır. Yakalanan çocuk, uçak gibi kollarını açarak durur, bacaklarının arasından başka bir oyuncunun geçmesiyle tekrar oyuna döner. Oyun, ebe'nin herkesi yakalamasıyla biter.

Bu parçaya göre "Uçak Oyunu" ile ilgili olarak aşağıdakilerden hangisi söylenebilir?

- A) Uçak gibi duran çocuk, ebeye değince oyuna döner.
B) Altı çocuk uçak gibi durduğunda oyun biter.
C) Ebe, bir oyuncuyu yakalayınca ebelikten kurtulur.
D) Ebe, yakaladığı çocuğun bacaklarının arasından geçer.

7. Turgut, bu mektubu çalışma masasının üstüne koymuş, karşısında saat 01.00'e kadar oturup durmuştu. Selim'in titrek bir yazıyla karaladığı satırlar gözlerinin önünde uçuşuyordu. Harflerin arasında arkadaşının uzun parmaklarını seçer gibi oluyor, okuduğu kelimelerle birlikte onun kalın ve boğuk sesinin odada yankılandığını sanıyordu.

Bu parçadaki olay, yer, zaman ve kişiler aşağıdakilerin hangisinde doğru olarak verilmiştir?

	Olay	Yer	Zaman	Kişiler
A)	Selim'in yazı yazması	Balkon	Akşam	Yazar, Selim
B)	Selim'in Turgut'a seslenmesi	Salon	Öğlen	Yazar, Turgut
C)	Turgut'un mektup okuması	Oda	Gece	Turgut, Selim
D)	Turgut'un masaya oturması	Mutfak	Sabah	Yazar, Turgut, Selim

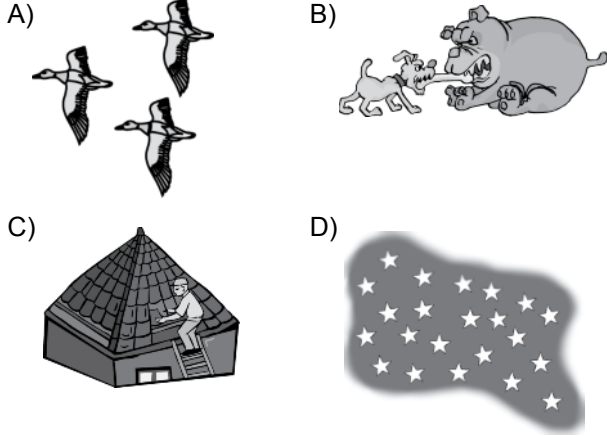
8. "Otokritik" denilen konuya eğilmek istiyorum. Ben otokritiği daha çok bir davranış için uygun buluyorum. İnsanın kendi davranışını sonuçları açısından değerlendirmesidir otokritik, diyorum. Kendini eleştirmenin kendinden yakınma çerçevesinden de çıkması gereklidir diye düşünüyorum.

Bu parçaya göre aşağıdakilerden hangisi bir "otokritik"tir?

- A) Bu sözleri söyleyerek onun kalbini kırmamalıydım.
B) Otobüs zamanında gelmediği için törene yetişemedim.
C) "Yeterli değil!" diyerek projemizi reddetmişler.
D) Bana yüzmeyi öğretmiş olsaydın seninle gelirdim.

9. bizden binlerce kilometre uzakta olmalarına rağmen elini uzatsan tutulacak gibiler. Kardeşim Kenan'la evin damındayız. Hiç konuşmuyoruz. Sirtüstü yatmış, yıldızlara bakıyoruz. Gece kuşları kesik kesik ötüyor, arada bir uzaklardan köpek sesleri geliyor.

Bu parçanın eksik bırakılan kısmı aşağıdaki resimlerden hangisiyle ilgilidir?



10. Her gün daha başka açıyor çiçek
Gökyüzü daha mavi gittikçe
Güneş daha rengârenk.

Cahit Irgat

Aşağıdakilerden hangisi bu şiirde anlatılan duyguyu ifade eder?

- A) İçim dışıma çıktı.
B) İçim içime sığmıyor.
C) İçim cız etti.
D) İçim içimi yiyor.

11.



Bu çocuklardan hangisi kardan adama, insana ait bir özellik yüklemiştir?

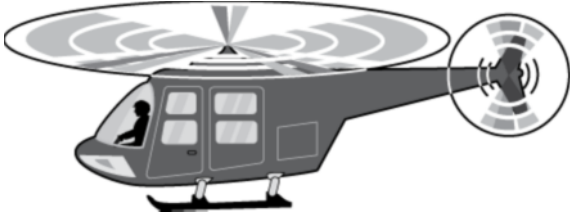
- A) Zeynep
B) Selim
C) Ahmet
D) Şirin

12. Yaşlı adam, gösterdiği sopa demetini oğullarından kırmalarını istemiş. Hepsini bunun için saatlerce uğraşmış ama hiçbiri bunu tek başına başaramamış. Yaşlı adam yerinden kalkmış, demeti çözmüş. Sopaları teker teker oğullarına uzatmış. Oğulları, sopaları zorlanmadan kırmışlar. Yaşlı adam bunun üzerine onlara "....." demiştir.

Bu parçaya göre yaşlı adam, oğullarına ne demiştir?

- A) Zorlukları yenmek için birlikte hareket edin.
B) Sağlığınız için spor yapmaktan vazgeçmeyin.
C) İyi adı ancak kendiniz kazanabilirsiniz.
D) İyilik yaparken kimseden karşılık beklemeyin.

13.



Bu helikopter, içerisinde sebep – sonuç ilişkisi bulunan alana inecektir. Buna göre helikopter aşağıdaki alanlardan hangisine iniş yapmalıdır?

A)

Benim için ne düşündüğünü bilmiyorum.

B)

Çanakkale’de vatan için yapılanları unutmayacağız.

C)

Uçurtmam çizgili olduğu için çok güzel görünüyor.

D)

Ağrı Dağı’na çıkmak için hazırlık yapıyor.

14. Öğretmen, masal adası Seylan’ı anlatıyordu. Seylan Adası, haritada su damlası kadar küçük görünüyordu. Neler neler anlatmıyordu ki öğretmen!.. Maymunlar, filler, muzlar, dünyanın en iyi çayları, çeşit çeşit yemişler, adını bile duymadığımız bitkiler... Ama en çok hoşumuza giden, adanın sıcak oluşuydu. Bütün bir yıl ne çizme ne palto ne şapka ne atkı... Serbestçe gez gezebildiğin kadar. Oduna da kömüre de gerek yok. Doğrusu tam yaşanacak yermiş Seylan Adası.

Bu parçaya göre Seylan Adası’nın “tam yaşanacak bir yer” olmasının sebebi aşağıdakilerden hangisidir?

- A) Rahatça gezilebilecek kadar küçük olması
- B) Doğal hayatının bozulmadan devam etmesi
- C) İçinde birçok hayvan türünün bulunması
- D) Yaz mevsiminin yıl boyu sürmesi

15.

.....?

Emre

Her konuda olduğu gibi bilgisayarla ilgili de bazı kurallarımızın olması gerekir. Biliyorum, eğlenmeye de dinlenmeye de ihtiyacımız var ama bunların belli bir süresi olmalı.

Hüseyin

Hüseyin, Emre’nin hangi sorusuna cevap vermiştir?

- A) Bilgisayar oyunlarına neden bu kadar az vakit ayırıyorsun?
- B) Bilgisayar oyunlarının zararlarını bana anlatır mısın?
- C) Bilgisayar oyunları biz çocukları nasıl etkiler, biliyor musun?
- D) Bilgisayarda oyun oynamanı ailen nasıl karşılıyor?

16. Bir yaz tatilinde, babamın bir dostunun yanında çalışma denemesi yapmıştım. Harçlığımı ilk aldığımda beni görmeliydiniz. İlk küçük kazancım, benim gözümde milyarlardan daha değerliydi. Çünkü yorularak kazandığım bu parayı hemen kaybetmek istemiyordum. Onu nasıl harcayacağıma karar vermem zor oldu. Harcağımda aldığım tatsa bambaşkaydı. Çalışkanlığımın ispatıydı bu. Alın terimin belgesiydi.

Bu paragrafta asıl anlatılmak istenen aşağıdakilerden hangisidir?

- A) Çalışkan kişi zamanın nasıl geçtiğini anlamaz.
- B) En tatlı kazanç, insanın kendi çabasıyla elde ettiği.
- C) Kazancın bir kısmı ihtiyaç sahiplerine ayrılmalıdır.
- D) Para biriktirmek, para kazanmaktan daha zordur.

17. Yeşilçam filmlerinde köyünden, kasabasından İstanbul'a gelen genç adam, genç kız, martıların kaynadığı bir iskelede gösterilmezse olmaz. Martı simgedir, gelenekleşmiştir İstanbul için. İyi de yarı denizde, yarı karada binalarımızın çatılarında vakit geçiren bu güzelim kuşları korumaya almış bir çevreci kuruluş mevcut mu bilemiyorum.

Bu parçaya göre aşağıdakilerden hangisi İstanbul'un sembolüdür?

- A) Yeşilçam B) İskele
C) Martı D) Deniz

18.

Emir vermek

Uyarmak

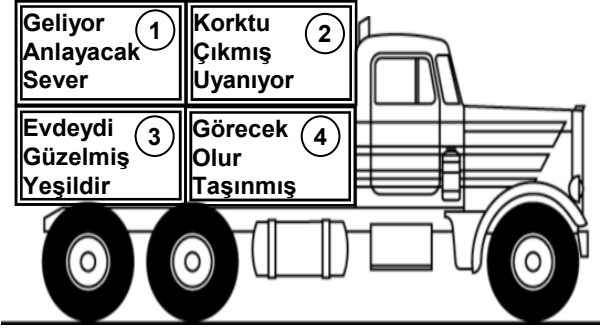
Suçlamak

Oyalamak

İletişim engellerinden bazıları yukarıdaki kartlarda verilmiştir. Bu kartlara göre aşağıdakilerden hangisi iletişimi engelleyen ifade biçimlerinden biri değildir?

- A) Hemen odana çık ve uyu.
B) Benimle bir daha sakın böyle konuşma.
C) Suyu boşa harcamasaydın hepimize yeterdi.
D) Hastalandığı için davetimize gelemedi.


19.



Bu kamyonun hareket etmesi için "ek fiil" almış kelimelerin bulunduğu kasanın yere indirilmesi gerekmektedir. Buna göre kaç numaralı kasa yere indirilmelidir?

- A) 1 B) 2 C) 3 D) 4

20.



Kırmızı, mavi, yeşil ve turuncu balonlar yan yana geldiklerinde bir cümle oluşturmaktadır. Yılmaz, bu cümleye "zaman anlamı katan" balonu almak istemektedir. Buna göre baloncu, Yılmaz'a hangi balonu vermelidir?

- A) Kırmızı B) Mavi
C) Yeşil D) Turuncu

21.

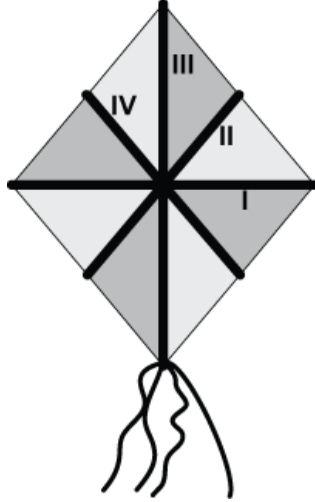


Elif'in elindeki çantada fiiller vardır. Elif'in, fiil sandığına ilk önce "oluş" fiilini koymasına gerekmektedir. Buna göre sandığa koyacağı ilk fiil aşağıdakilerden hangisidir?

- A) Alışmak B) Beklemek
C) Sevinmek D) Yeşermek

**TÜRKÇE TESTİ BİTTİ.
MATEMATİK TESTİNE GEÇİNİZ.**

1. Yandaki eşkenar dörtgenel bölge şeklindeki uçurtma I, II, III ve IV nolu çıtaların şekildeki gibi birleştirilmesi ile oluşturulmuştur. Aşağıdakilerden hangisindeki çıtalar birbirinin orta dikmesidir?



- A) I ve III B) II ve III C) I ve IV D) I ve II

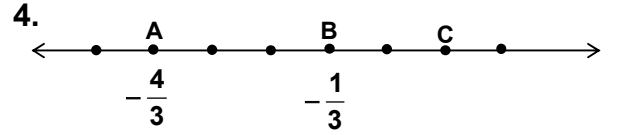
2. $1 - \frac{1}{5}$ işleminin sonucu hangisidir?

- A) $\frac{2}{5}$ B) $\frac{1}{2}$ C) $\frac{8}{5}$ D) $\frac{5}{2}$

3. $\blacksquare \times \blacktriangle + \bullet$

-8, +3, -2 sayıları yukarıdaki semboller yerine hangisindeki gibi yerleştirilirse elde edilen işlemin sonucu en büyük olur?

- | | | |
|----------------|------------------|-----------|
| \blacksquare | \blacktriangle | \bullet |
| A) -8 | +3 | -2 |
| B) +3 | -8 | -2 |
| C) -2 | +3 | -8 |
| D) -8 | -2 | +3 |



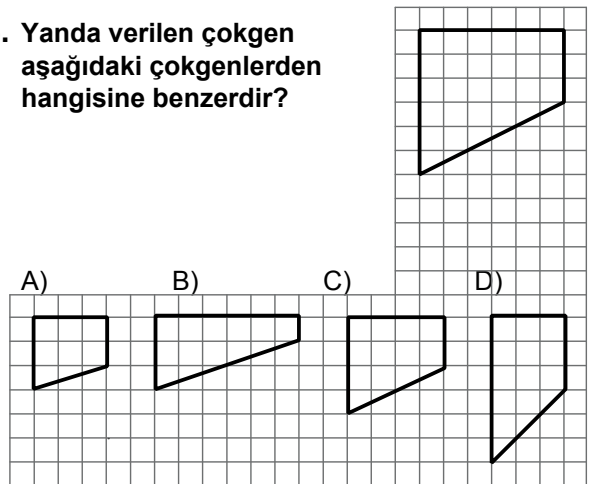
Verilen sayı doğrusunda işaretlenen ardışık noktalar arası aynı uzunluktadır. A ve B noktaları $-\frac{4}{3}$ ve $-\frac{1}{3}$ sayıları ile eşleştiğine göre, C noktası aşağıdakilerden hangisi ile eşleşir?

- A) 0 B) $\frac{1}{3}$ C) 1 D) $\frac{5}{3}$

5. Galata Kulesi'nin yüksekliği 62 metredir. Bu kulenin Miniaturk Müzesi'ndeki maketi $\frac{1}{25}$ ölçekle küçültülerek yapılmıştır. Buna göre, bu maketin yüksekliği kaç santimetredir?

- A) 124 B) 155 C) 248 D) 250

6. Yanda verilen çokgen aşağıdaki çokgenlerden hangisine benzerdir?

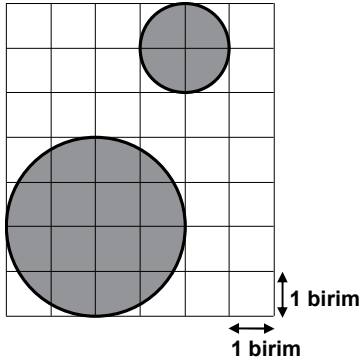


7. Yandaki saatin farklı mağazalardaki etiket fiyatları ve yapılacak indirim yüzdeleri aşağıda verilmiştir. Yapılacak indirimler sonrasında bu saat hangi mağazadan en ucuza satın alınır?



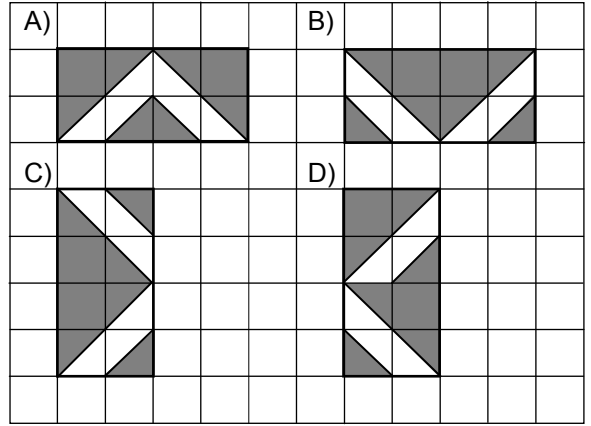
- A) Sevgi Mağazası
100 YTL
%25 indirim
- B) Dost Mağazası
90 YTL
%10 indirim
- C) Yıldız Mağazası
90 YTL
%20 indirim
- D) Gül Mağazası
100 YTL
%30 indirim

8. Aşağıdaki şekilde, yarıçap uzunluğu büyük olan dairenin alanı, yarıçap uzunluğu küçük olan dairenin alanının kaç katıdır?

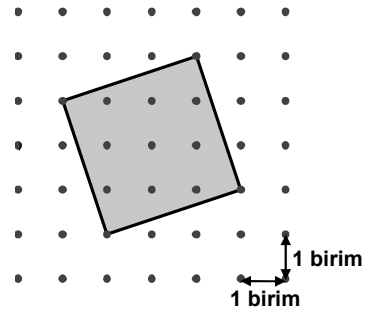


- A) 2 B) 4 C) 8 D) 16

9. Kareli kâğıt üzerinde verilen şekillerden hangisinde yansıma simetrisi yoktur?

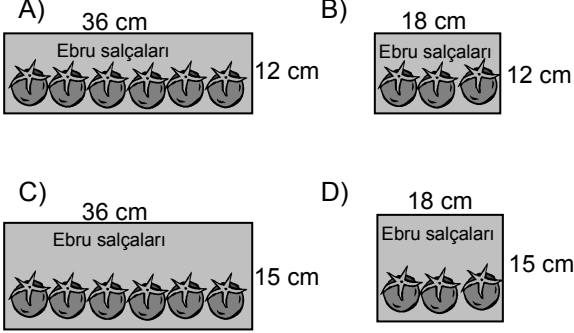


10. Şekildeki dörtgensel bölgenin alanı kaç birim karedir?

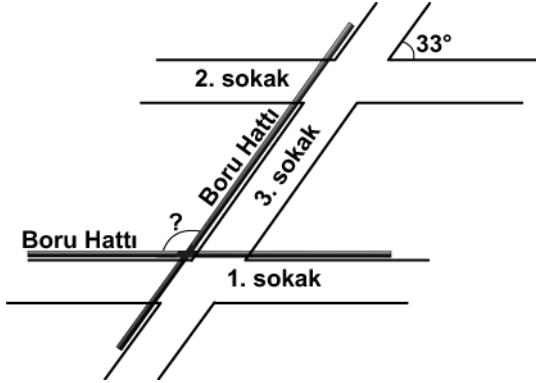


- A) 9 B) 10 C) 11 D) 12

11. Bir salça fabrikasında, silindirik şeklindeki eş teneke kutuların yan yüzleri birer etiketle tamamen kaplanacaktır. Bir kutunun taban yarıçapının uzunluğu 6 cm ve hacmi 1620 cm^3 olduğuna göre, etiketin kenar uzunlukları aşağıdakilerden hangisindeki gibi olmalıdır? (π 'yi 3 alınız.)



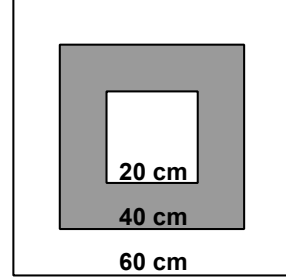
12.



Bir mahalledeki 3. sokak, birbirine paralel olan 1. ve 2. sokakları kesmektedir. Bu mahalleye, 1. ve 3. sokaklara paralel olacak şekilde krokideki gibi borular döşenecektir. 2. ve 3. sokakların oluşturduğu dar açı 33° olduğuna göre, boru hatlarının oluşturduğu geniş açı kaç derecedir?

- A) 114 B) 123 C) 147 D) 153

13. Bir kenar uzunluğu 60 cm olan karesel bölge şeklindeki hedef tahtası iç içe iki kare ile bölgelere ayrılmıştır. Bu karelerin kenar uzunlukları 20 cm ve 40 cm olduğuna göre, hedef tahtasına isabet eden bir okun boyalı bölgeye isabet etme olasılığı nedir?



- A) $\frac{1}{3}$ B) $\frac{4}{9}$ C) $\frac{5}{9}$ D) $\frac{2}{3}$

14.

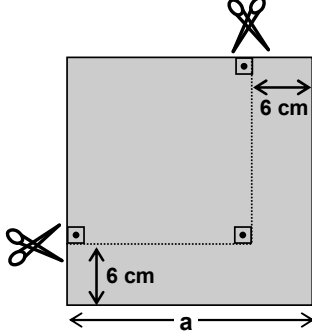
Maçlar	1.	2.	3.	4.	5.	6.	7.	8.	9.
Atilan basket sayıları	15	16	14	15	16	18	15	18	17

Yukarıdaki tabloda, bir basketbolcunun 9 maçta attığı basket sayıları verilmiştir. Bu sayıların tepe değeri (modu) kaçtır?

- A) 14 B) 15 C) 16 D) 18

15. Kenar uzunlukları a cm olan karesel bölge şeklindeki bir kâğıt parçası kenarlarından şekildeki gibi kesiliyor.

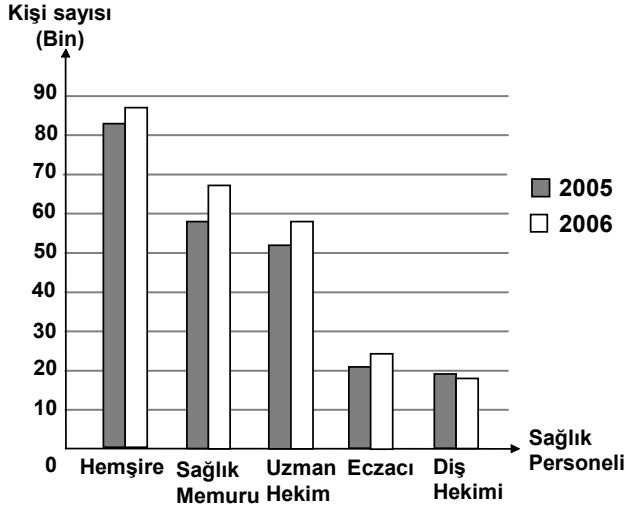
Oluşan karesel bölgenin alanı aşağıdaki-lerden hangisiyle ifade edilir?



- A) $a^2 - 6a + 36$ B) $a^2 - 6a + 12$
C) $a^2 - 12a + 12$ D) $a^2 - 12a + 36$

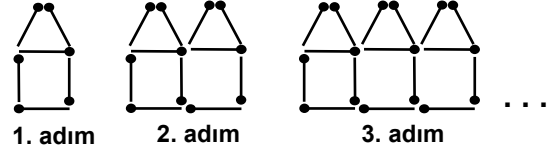
16. Türkiye İstatistik Kurumunun verilerine göre ülkemizde 2005 – 2006 yıllarındaki bazı sağlık personeli sayıları aşağıdaki grafikte verilmiştir. Grafığe göre, aşağıdaki ifadelerden hangisi yanlıştır?

Grafik: Bazı Sağlık Personeli Sayıları



- A) En az değişim eczacı sayısında olmuştur.
B) Hemşire sayısı, sağlık memuru sayısına göre daha az artmıştır.
C) En fazla değişim sağlık memuru sayısında olmuştur.
D) Sadece diş hekimlerinin sayısı azalmıştır.

- 17.

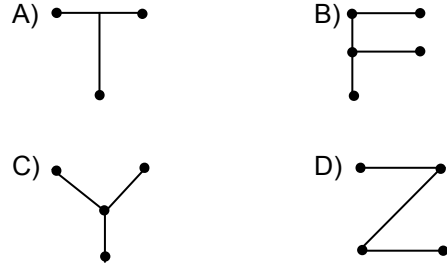


Kibrit çöpleri ile oluşturulan bir örüntünün ilk üç şekli yukarıda verilmiştir. Bu örüntüde 7. adımdaki şekil kaç kibrit çöpünden oluşur?

- A) 31 B) 36 C) 41 D) 42

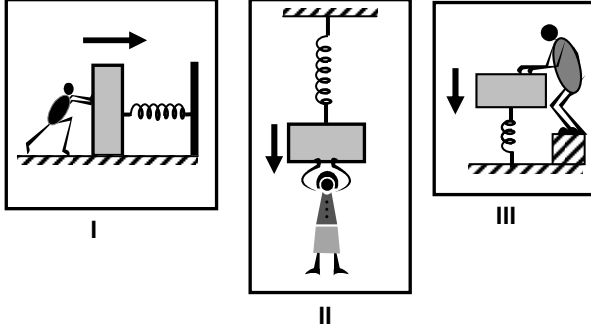
18. Aşağıdaki adımlar izlendiğinde koordinat düzleminde hangi harf oluşur?

1. adım: Uç noktaları $A(3, 1)$ ve $B(3, -1)$ olan doğru parçasını çiziniz.
2. adım: $C(4, 3)$ noktasını A noktası ile birleştiriniz.
3. adım: $D(2, 3)$ noktasını A noktası ile birleştiriniz.



MATEMATİK TESTİ BİTTİ.
FEN ve TEKNOLOJİ TESTİNE GEÇİNİZ.

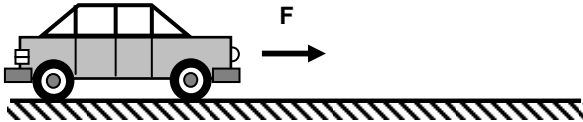
1. Üç öğrenci I, II, III'teki yaylara oklarla gösterilen yönlerdeki kuvvetleri uyguluyorlar.



Yayların bu kişilere uyguladıkları kuvvetlerin yönleri hangi seçenekte doğru olarak verilmiştir?

	I	II	III
A)	→	↓	↓
B)	←	↑	↓
C)	←	↑	↑
D)	→	↓	↑

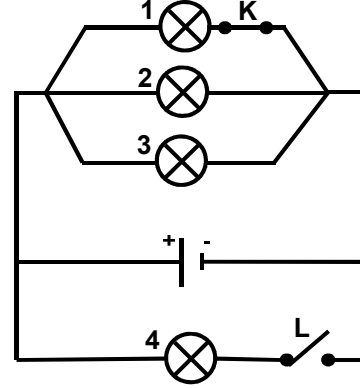
- 2.



F kuvveti etkisiyle düzgün doğrusal yolda hareket eden bir arabanın, hareketinden bir süre sonra şoför frene basıyor. Frenin etkisi ile arabaya etki eden net kuvvet hareket süresince sıfır olduğuna göre; bundan sonra arabanın hareketi için ne söylenebilir?

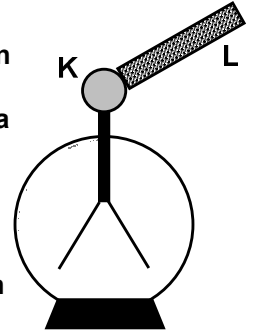
- A) Süratlenerek yoluna devam eder.
B) Sabit süratle yoluna devam eder.
C) Frene basıldığı anda durur.
D) Yavaşlayarak durur.

3. Numaralandırılmış özdeş ampullerle kurulu şekildeki devrede K anahtarı açılıp L anahtarı kapatıldığında aşağıdaki durumlardan hangisi gerçekleşir?



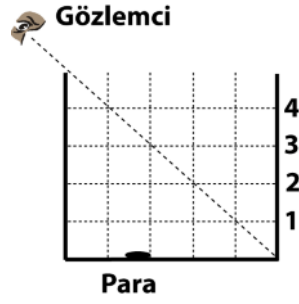
- A) 2 ve 3 nolu ampullerin parlaklığı aynı kalır.
B) Ana koldan geçen akım artar.
C) 1 nolu ampulün parlaklığı artar.
D) Devrenin eşdeğer direnci artar.

4. Cem, yaprakları biraz açık bulunan K elektroskobunun topuzuna L cismini şekildeki gibi dokundurduğunda K'nın yapraklarının önce kapanıp sonra tekrar açıldığını gözlemliyor. Buna göre K ve L'nin birbirine dokundurulmadan önceki yük durumları hangisindeki gibi olabilir?



- | | K | L |
|----|------|---|
| A) | Nötr | - |
| B) | - | + |
| C) | - | - |
| D) | + | + |

5. Saydam olmayan kaba şekildeki gibi bakan bir gözlemcinin kap içindeki parayı görebilmesi için, kabın içine sıvı doldurması gerekiyor.

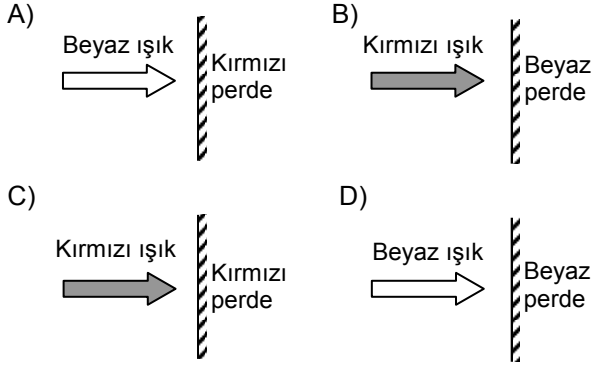


Gözlemci kaba hangi seviyeye kadar sıvı doldurursa parayı görebilir?

(Bölmeler özdeş karelerden oluşmaktadır.)

- A) 1 B) 2 C) 3 D) 4

6. Aşağıdakilerden hangisinde perde üzerine gelen ışık en az yansımaya uğrar?



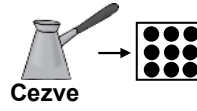
7. Uzay araştırması yapan öğrenci gözlemleri sonucu bir gökcismine ait aşağıdaki bilgileri elde ediyor.

- Gökcismi belirli bir yörüngede hareket ediyor.
- Üzerine gelen ışık ışınlarını geri yansıtıyor.
- Etrafında dolanan kendisinden küçük gök cisimleri bulunuyor.

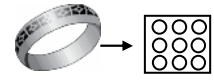
Buna göre öğrencinin gözlemlediği gökcismi aşağıdakilerden hangisidir?

- A) Galaksi B) Yıldız
C) Gezegen D) Uydu

- 8.



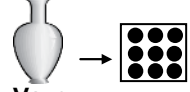
Cezve



Bilezik



Tencere



Vazo

Şekildeki eşyaları ve bu eşyaların yapıldığı maddelerin tanecik modellerini gösteren kartları sınıfa getiren öğretmen, öğrencilerine;

“Tanecik modellerine göre hangi eşyalar aynı maddeden yapılmış olabilir?” sorusunu yöneltir.

Öğrencilerin verdikleri aşağıdaki cevaplardan hangisi doğrudur?

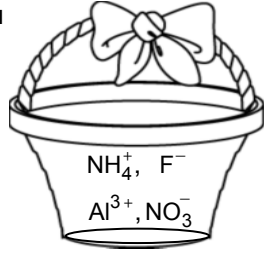
- A) Cezve – Vazo
B) Cezve – Tencere
C) Cezve – Tencere – Vazo
D) Cezve – Bilezik – Vazo

9. Aşağıda verilen şiirin hangi mısrasında atomun yapısı ile ilgili yanlış bilgi verilmiştir?

- (1) Oluşturur beni proton, nötron, elektron
(2) Kimliğimi belirtir çekirdeğimdeki proton
(3) Etrafımda döner proton, nötron, elektron
(4) Yüksüzdür çekirdeğimdeki nötron

- A) 1 B) 2 C) 3 D) 4

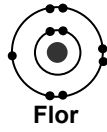

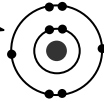
10. Özlem, sepetteki iyonları anyon ve katyon olarak ayırmak istiyor. Bu iyonları anyon ve katyon kutularına aşağıdakilerden hangisindeki gibi yerleştirmelidir?



- A) B)
- C) D)

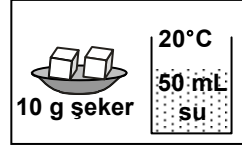
11.

Merhaba, benim adım oksijen. Oyun oynamayı seviyorum. Benimle iyonik bağ yapabilecek arkadaşlarla oynamak istiyorum. Aşağıdaki hangi arkadaşlarla oynayabilirim?

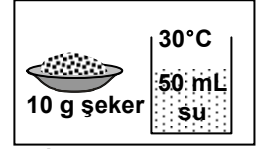


- A) Flor B) Magnezyum
C) Argon D) Argon ve flor

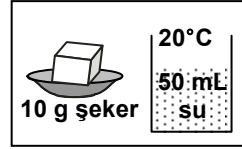
12. Bazı öğrencilerin aynı miktardaki şekerleri suda çözmek için hazırladıkları düzenekler aşağıda verilmiştir.



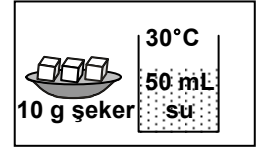
Eren'in düzenegi



İlay'ın düzenegi



Sevde'nin düzenegi






Ece'nin düzenegi

Hangi öğrencinin hazırladığı düzenekte şeker daha kısa sürede çözünür?

- A) Eren'in B) Sevde'nin
C) Ece'nin D) İlay'ın

13. Selma, Fen ve Teknoloji dersi ödevi olan derideki duyu almaçları (ağrı, soğuk - sıcak, sert - yumuşak vb.) konusunu resimlerle anlatmak istiyor.

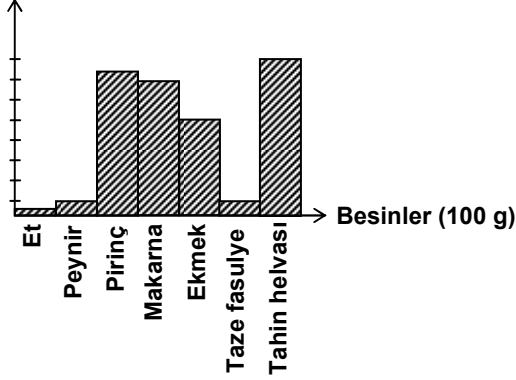
Buna göre Selma, aşağıdaki resimlerden hangisini seçmemiştir?



14. Korku, heyecan, mutluluk ve öfke gibi durumlarda vücutta adrenal hormonu seviyesi artar. Buna göre, aşağıdaki durumların hangisinde Hülya'nın adrenal hormonu seviyesinde artma beklenir?

- A) Yemek yerken su içtiğinde
B) Ders çalıştıktan sonra uyduğunda
C) Her gün, ev işlerinde annesine yardım ettiğinde
D) Sınavda başarılı olunca aşırı sevindiğinde

15. Karbonhidrat değeri



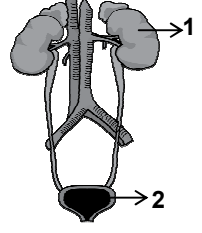
Doktor, Ayşe'ye fazla kilo aldığını söyleyip beslenme uzmanı (diyetisyen)na göndermiştir. Beslenme uzmanı, karbonhidratlı besinleri az yemesini önerip, bazı besinlerdeki karbonhidrat değerlerini yukarıdaki grafikte anlatmıştır.

Ayşe, miktarları eşit olan aşağıdaki yemeklerden hangisini yerse, beslenme uzmanının önerisine uymuş olur?

- A) Etili taze fasulye
B) Etili pirinç pilavı
C) Peynirli makarna
D) Ekmek arasında tahin helvası

16. Öğretmen:

Şekildeki boşaltım sisteminde verilen 1 ve 2 numaralı organların isim ve görevlerini söyler misin?



Öğrenci:

1 numaralı organ böbrektir, idrarı depo eder.
2 numaralı organ idrar kesesidir, kanı süzer.

Bu açıklamalara göre öğrenci ile ilgili olarak aşağıdakilerden hangisi söylenebilir?

- A) Boşaltım sistemi organlarını bilmiyor.
B) Boşaltım sistemi organları ile diğer sistemlerin organlarını ayırt edemiyor.
C) Boşaltım sistemi organlarının şeklini biliyor, ancak görevlerini birbirine karıştırıyor.
D) Boşaltım sistemi organlarını ve görevlerini çok iyi biliyor.

17.



Kasabanın 20 yıl önceki hâli



Kasabanın bugünkü hâli

12 yaşındaki Mehmet, yaşadığı kasabanın, yukarıda verilen 20 yıl önceki fotoğrafını bugünkü hâli ile karşılaştırınca çok üzülüyor.

Eskiden ağaçlar arasından akan temiz akarsu artık çok kirlidir. İçinde meyve suyu kutuları, yiyecek artıkları, naylon torbalar vardır. Ağaçlık ve tarım alanları yok edilmiştir.

Mehmet bu problemi çözmek amacıyla afişler hazırlayıp arkadaşlarına ve komşularına dağıtıyor. Aşağıdakilerden hangisi bu afişlerden biri olamaz?

- A) Geri dönüşümlü ürünler kullanıp, çöplerimizi çöp kutusuna atalım.
- B) Çevremizde ağaçlandırma çalışması başlatalım.
- C) Doğal kaynaklarımızı koruyalım.
- D) Daha fazla ürün almak için kimyasal gübre kullanımını artıralım.

18. Öğretmen Metin'e ▲, ●, ★, ■ ile gösterilen hayvan türlerinin yediği besinleri gösteren tabloyu verip, bu hayvanların yaşadığı yerleri yazmasını istiyor.

Özellikler Hayvan Türü	Yediği besinler	Yaşadığı yer
▲	Bitki yaprağı	Çayırılık ve tarlalar
●	▲ ve bitki tohumları	Orman ve çayırılıklar
★	●	Akarsu içi
■	● ve ★	Orman ve çayırılıklar

Metin, bu hayvan türlerinden hangisinin yaşadığı yeri tabloya yanlış yazmıştır?

- A) ▲ B) ● C) ★ D) ■

FEN ve TEKNOLOJİ TESTİ BİTTİ.
SOSYAL BİLGİLER TESTİNE GEÇİNİZ.

1. I- İrade-i Milliye Gazetesi

II- Türk Tarih Kurumu

III- Anadolu Ajansı

Atatürk'ün kuruluşuna öncülük ettiği yukarıdaki kurum ve kuruluşlardan hangileri, onun iletişime önem verdiğini gösterir?

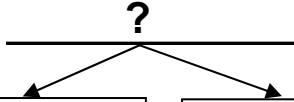
- A) Yalnız I B) I – II C) II – III D) I – III

2. Türkiye Selçukluları Döneminde Türklerin siyasal mücadeleleri ve kültürel faaliyetleri Anadolu'nun Türkleşme sürecine önemli katkılar sağlamıştır.

Türkiye Selçuklu Devleti Döneminde görülen aşağıdaki faaliyetlerden hangisinin Anadolu'nun Türkleşmesinde etkili olduğu söylenemez?

- A) Miryokefalon Savaşı ile Bizans'ın yenilmesi
B) Haçlı Seferlerine karşı Anadolu'nun savunulması
C) Venediklilerle ticaret antlaşmaları imzalanması
D) Bilimsel, sosyal ve ekonomik amaçlı mimari eserlerin yapılması

3.




Türklerin Avrupa'da ilerleyişi Viyana kapılarında sona erdi. Ama askerî bandolarının gürleyen davul ve zurnaları Haydn, Mozart ve Beethoven'in müziğine ilham veren bir miras bıraktı.

1720 yılında Yirmisekiz Çelebi Mehmet Efendi, Fransa'ya elçi olarak gitti. Beraberinde götürdüğü oğlu Sait Efendi çeşitli davetlere katıldı. Matbaada kitapların akılcı ve kolay yoldan nasıl çoğaltıldığına şahit oldu. Ülkeye dönüşünde İbrahim Müteferrika ile teması geçti ve 1727'de İstanbul'da matbaa kuruldu.

Bu diyagrama verilebilecek en iyi başlık aşağıdakilerden hangisidir?

- A) Yenilikler ve Osmanlı Devleti
B) Etkiledik, Etkilendik
C) Farklı Kültürler Bir Arada Yaşadı
D) Buluşların Serüveni

4.



Yukarıda Osmanlı Döneminden günümüze kadar varlığını devam ettiren değişik dinlere ait bazı ibadet yerlerinin temsili resimleri verilmiştir.

Bu resimlerden yola çıkarak Osmanlı toplumu için aşağıdakilerden hangisi söylenemez?

- A) Farklı kültürler bir arada yaşamıştır.
B) İnanç ve ibadet hürriyeti sağlanmıştır.
C) Adaletli ve hoşgörülü bir yönetim uygulanmıştır.
D) İbadet hayatı yalnızca İslamiyet'e göre yaşanmıştır.

5. "Kral Yolu üzerinde kurulmuş olan Lidya uygarlığı, ekonomik faaliyetlerin kendilerine kazandırdığı büyük servetle komşu devletlere göre bilim, sanat ve teknikte üstün bir uygarlık seviyesine çıkmıştır."

Verilen bilgide, Lidya uygarlığının gelişmesinde etkili olan aşağıdaki faktörlerden hangisi vurgulanmıştır?

- A) Ekonomide parayı kullanmaları
B) Ticaret yolu üzerinde bulunmaları
C) Madencilik sanatında ileri oldukları
D) Devlet yönetiminde tüccarların da etkili olmaları

6. Osmanlı Devleti'nde yapılan ıslahat hareketleri sonucunda;

- Matbaa kuruldu,
- Ziraat Bankası açıldı,
- Posta teşkilatı kuruldu.

Bu ıslahatlar, aşağıdaki alanların hangisinde değişim yaşandığına kanıt olamaz?

- A) Askerlik B) Ekonomi
C) Kültür D) Haberleşme

7.



Yukarıda ülkemizde gerçekleştirilen milletvekili seçimlerinden temsilî bir resim verilmiştir.

Bu uygulamanın cumhuriyetin hangi niteliğinin doğrudan bir gereği olduğu söylenebilir?

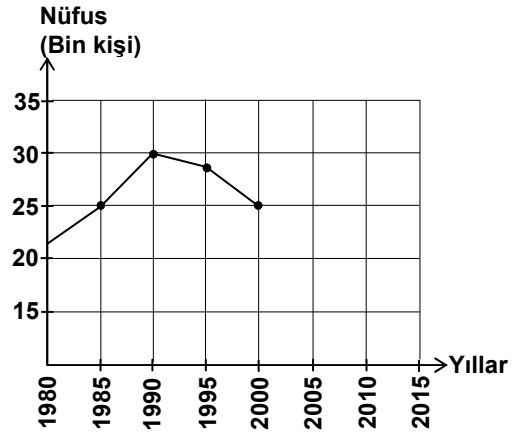
- A) Laik Devlet B) Sosyal Devlet
C) Demokratik Devlet D) Hukuk Devleti

8. I. Dünya Savaşı öncesinde bağımsızlık isteyen farklı ulusları içinde bulunduran imparatorluklar vardı. Savaş sonunda bu imparatorluklar yıkıldı ve yerlerine ulus devletler kuruldu.

Bu durum, I. Dünya Savaşı'nın aşağıdaki nedenlerinden hangisine bağlı bir sonuçtur?

- A) Milliyetçilik hareketlerine
B) Ham madde ve pazar arayışına
C) Sanayi İnkılabı'na bağlı sömürgecilik yarışına
D) Devletler arasında yaşanan çıkar çatışmalarına

9.



Yukarıdaki grafikte ülkemizdeki bir kentin nüfus miktarındaki değişim gösterilmiştir. Son sayımdan itibaren (2000 yılı) kentin nüfusu her yıl 500 kişi azalır. 2010 yılında nüfusu kaç kişi olur?

- A) 15.000 B) 20.000 C) 22.500 D) 27.500

10.

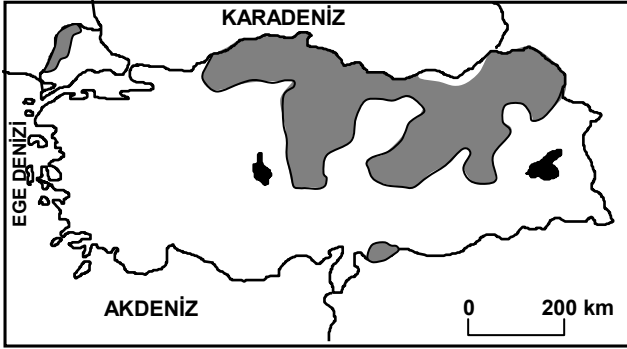
Aaah ah! Sanırım 45 – 50 yıl önceydi. Köyümüze traktör ve biçerdöver geldiğinde çok sevinmiştik. Bu makineler bizim günlerce uğraşarak sürdüğümüz ve biçtiğimiz toprakları birkaç saatte işledi. Hatta kazma vuramadığımız toprakları bile ekip biçmeye başladı. Nereden bilebilirdik, artık köyümüzde bize ekmek kalmadığını. İş bulmak ümidiyle düştük gurbet ellere ...



Metne göre, Recep Dede'nin yıllar önce kente göçmesinin nedeni aşağıdakilerden hangisidir?

- A) Sağlık sorunlarının ortaya çıkması
B) Ekilemeyen alanların tarıma açılması
C) Tarımsal verimin düşmeye başlaması
D) Tarımda makine kullanımının yaygınlaşması

11.



- Nüfusu azalan yerler
□ Nüfusu artan yerler

Nüfusu hızla artan yerlerde işsizlik, gecekondulaşma, alt yapı hizmetlerinin yetersizliği, tarım ve yeşil alanların yapılaşması, çevre kirliliği gibi sorunlar yaşanmaktadır.

Buna göre; Türkiye haritasında gösterilen yerlerin hangisinde bu sorunlar daha az yaşanmaktadır?

- A) Kuzeydoğu Anadolu
B) Ege Denizi kıyıları
C) Marmara Denizi çevresi
D) Türkiye'nin güney kıyıları

12. İstanbul'da yaşayan Ahmet Bey, şehrin kalabalığından ve gürültüsünden kaçmak için yakın bir köyde bahçeli bir ev alarak burada yaşamaya başlamıştır. Dostlarını ziyaret etmek için de sık sık İstanbul'a gidip gelmektedir.

Bu durum Ahmet Bey'in öncelikle hangi hak ve özgürlüğünü kullandığına örnek oluşturur?

- A) Haberleşme
B) Yerleşme ve seyahat
C) Düşüncüyü açıklama
D) Özel yaşamın gizliliği

13.

Alışveriş yaparken geri dönüşümü olan kutularda satılan ürünleri seçebiliriz.



Ayşenur

Kâğıt, şişe gibi maddeleri onlar için ayrılmış kutulara koyabiliriz.



Murat

Aldığımız ürünlerin kutularını atmayarak kalem kutusu gibi farklı amaçlar için kullanabiliriz.



Pınar

Yukarıdaki üç arkadaş aşağıda verilen çevre sorunlarından öncelikle hangisine yönelik çözüm önerisinde bulunmaktadırlar?

- A) Hava kirliliği
B) Erozyon
C) Su kirliliği
D) Atıkların geri dönüşümü

14.



Buna göre, Türkiye Cumhuriyeti Devleti'nde aşağıdakilerden hangisi Cumhurbaşkanının kanun maddesi üzerindeki hak ve sorumluluklarından değildir?

- A) Kanunu veto etmek
B) Kanunu onaylamak
C) Kanun yapmak
D) Kanunu Resmî Gazete'de yayımlamak

15.

Bireyin;

- Yetenekleri belirlenmeli,
- İlgili alanları keşfedilmeli,
- Kişilik özellikleri ortaya konmalı,
- İlgili duyduğu meslekler incelenmeli,
- Mesleki tercihinin göre alması gereken eğitim araştırılmalı.

Yukarıda verilen açıklamaya en uygun başlık aşağıdakilerden hangisi olur?

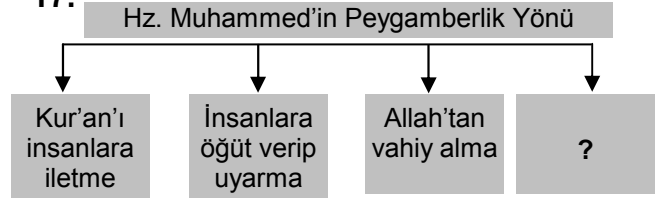
- A) Meslek seçiminde dikkat edilmesi gereken unsurlar.
B) Günümüzde en çok tercih edilen meslekler.
C) Mesleki iş bölümünün yararları.
D) Mesleklerin yaşam biçimlerine olan etkileri.

DİN KÜLTÜRÜ ve AHLAK BİLGİSİ DERSİNİ OKUYANLAR AŞAĞIDAKİ SORULARI CEVAPLAYACAKLAR. OKUMAYANLAR BUNUN YERİNE, AYNI NUMARALI SOSYAL BİLGİLER SORULARINI CEVAPLAYACAKLAR.

16. Metin'in kardeşi hastalanmıştı. Ona çevresindeki insanlar bazı önerilerde bulundular. "Ey Allah'ın kulları, tedavi olunuz; çünkü Allah yarattığı her hastalığın şifasını da yaratmıştır." hadisine göre Metin, aşağıdaki tavsiyelerden hangisine uymalıdır?

- A) Davut: "Kardeşini doktora götürüp tedavi ettirmelisin."
B) Behiye: "Falcıya git. Kardeşinin kendi kendine iyileşip iyileşmeyeceğini ondan öğren."
C) Cihan: "Ruh çağırma seanslarına götür, belki kardeşin iyileşir."
D) Ayla: "Aşağı mahallede büyüyle uğraşan biri var. Ona götürürsen kardeşini iyileştirir."

17.



Bu şemada boş bırakılan kutuya aşağıdakilerden hangisini yazdınız?

- A) Geçimini sağlamak için çalışma
B) İnsanlara hoşgörülü davranma
C) İlahî mesajı insanlara açıklama
D) Aile bireyleriyle yakından ilgilenme

18. Ramazan ayının ilk günü Ali ve Mustafa oruç tutuyorlardı. Eve doğru yürürlerken arkadaşları Ahmet'i gördüler. Ali dedi ki:

– Ahmet çok kavgacı biridir.

Orucun niçin ve nasıl tutulduğunu iyi kavramış biri olarak Mustafa, Ali'ye nasıl bir cevap vermelidir?

- A) Evet! Geçen gün Ömer'le kavga ediyordu.
- B) Dedikodu yapmayalım. Yoksa orucun sevabı azalır.
- C) Ahmet kavgacı olduğu gibi kıskanç ve dedikoducu biridir.
- D) Kavgacı insanlardan uzak durmak gerekir.

DİN KÜLTÜRÜ ve AHLAK BİLGİSİ DERSİNİ OKUMAYANLAR, AŞAĞIDAKİ SOSYAL BİLGİLER SORULARINI CEVAPLAYACAKLAR. DİN KÜLTÜRÜ ve AHLAK BİLGİSİ DERSİNİ OKUYANLAR CEVAPLAMAYACAKLAR.

16. Aşağıdaki diyagramda Sanayi İnkılabı sonucunda üretim teknolojisindeki gelişmelerin sosyal hayata etkileriyle ilgili bir süreç yer almaktadır:

1. Üretimde insan ve hayvan gücünün yerini makineler almıştır.



2. Üretim artmış ve insanların refah seviyesi yükselmiştir.



3. Yaşam koşullarının iyileşmesi ölüm oranını düşürmüştür.



4. ?

Diyagramdaki süreci tamamlayan en uygun ifade, aşağıdakilerden hangisidir?

- A) Nüfus artmış, işsizlik sorunu doğmuştur.
- B) Devletler arasında sömürgecilik yarışı başlamıştır.
- C) İşçi sınıfı ortaya çıkmış, sendikacılık girişimleri başlamıştır.
- D) Ham madde ve pazar bulma önemli sorun hâline gelmiştir.

17. Ülkelerin kalkınmasında önemli görevler üstlenen, iyi eğitim görmüş kişilerin çalışmak için yurt dışına gitmesine beyin göçü denir.

Buna göre; aşağıdaki kişilerden hangisinin Almanya'ya gitmesi beyin göçü değildir?

- A) Makine mühendisi Fikret Bey'in
- B) Beyin cerrahı Ülkü Hanım'ın
- C) İnşaat işçisi Ramazan Usta'nın
- D) Ekonomist Ercan Bey'in

18. Yedinci sınıf öğrencisi Elif, sınıfına girdiğinde sıra arkadaşının kendisine karşı kırgın davrandığını fark eder.

Elif'in aşağıdaki davranışlardan hangisini yapması bu sorunun çözümünde daha etkili olur?


- A) Durumu görmezden gelmesi
- B) Nedenini anlamaya çalışması
- C) Arkadaşına öfkelenmesi
- D) İş şakaya vurması

SOSYAL BİLGİLER TESTİ BİTTİ.
YABANCI DİL TESTİNE GEÇİNİZ

BU GRUPTAKİ SORULAR YABANCI DİLLERE AİTTİR. OKUDUĞUNUZ YABANCI DİLE AİT SORULARI CEVAPLANDIRINIZ.


İNGİLİZCE

1. – 9. sorularda verilen resimleri dikkate alarak boş bırakılan yere uygun düşen seçeneği işaretleyiniz.

1. will you come back home?
On Monday.
- 
- A) Where B) When C) What D) Which

2. I like cutting the grass but she prefers
- 
- A) painting the fence.
B) playing basketball.
C) watering the flowers.
D) taking photographs.

3. I'm interested in cartoons.




..... says she is interested in cartoons.

- A) She B) He C) It D) The cat

4. You are late for work again.
..... I missed the bus.
- 

- A) I hope so B) I'm sorry
C) That's nice D) Let's go

5. You have to
- 
- A) buy a lot of chocolate.
B) travel by taxi.
C) have breakfast.
D) brush your teeth.

6.

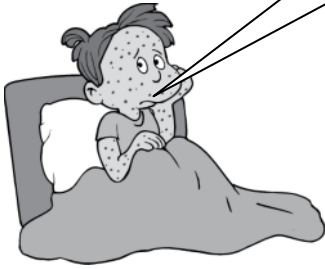
I feel ill. I'm going to



- A) write a letter. B) see a doctor.
C) make a cake. D) sing a song.

7.

I have got




- A) a stomachache B) the flu
C) a headache D) the measles

8. He is



- A) angry B) tired C) sad D) happy

9.

..... but I can't,
now. I'm too old.

- A) I used to run fast, too
B) I always listen to music
C) I love my children
D) I have got a new camera

10. – 11. sorularda boş bırakılan yere uygun düşen seçeneği işaretleyiniz.

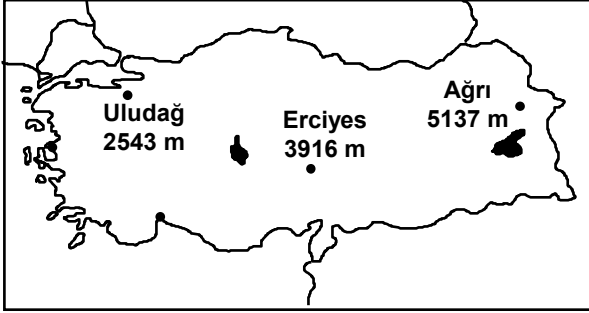
10. A: It's hot in here., please?
B: Yes, of course.

- A) Would you open the window
B) Could I speak to Mrs. Demir
C) May I use your pencil
D) Can you lend me some money

11. I'm very hungry now. I'd like to

- A) wear a pair of red shoes.
B) drink a glass of tea.
C) eat a sandwich.
D) clean my room.

12. Haritada verilen bilgilere göre cümlede boş bırakılan yeri tamamlayan seçeneği işaretleyiniz.



Mount Erciyes is

- A) the highest mountain in Turkey.
 B) as high as Mount Ağrı.
 C) higher than Mount Ağrı.
 D) higher than Uludağ.
13. Konuşma balonunda anlatılan durumu ifade eden seçeneği işaretleyiniz.

?

Yesterday, I watched a football match on TV.

A)



B)



C)



D)



14. Resmi dikkate alarak verilen sorunun cevabı olan seçeneği işaretleyiniz.



Avarel

Jack

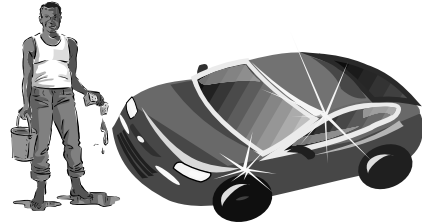
William

Joe

“Who is the tallest?”

- A) Avarel B) William C) Jack D) Joe

15. Resimde verilen durumu ifade eden seçeneği işaretleyiniz.



- A) He is driving a car.
 B) He is going to mend his car.
 C) He has just washed his car.
 D) He goes to work by car.

ALMANCA

1. – 9. sorularda verilen cümlede boş bırakılan yerlere uygun düşen sözcük veya ifadeyi bulunuz.

1. Peter : Komm Hans! Wir spielen Fussball.
Hans : Leider, ich nicht Fussball spielen.

- A) könnt B) kann C) können D) wollen

2. Peter : Was ist dein Vater von Beruf?
Berna : Mein Vater ist

- A) Lehrerin B) Hausfrau
C) Arbeiter D) Sekretärin

3. Roland : Wie geht es Ihnen?
Berna : Danke, es geht

- A) mir gut B) dir gut
C) gut mir D) Ihnen gut

4. Berta : Zeigst du mir dein Bild?
Hans : Ja, gern! ich zeige mein Bild.

- A) mir B) dir C) ihr D) ihm

5. Walter : Kennst du das Kind da?
Otto : Ja, ich kenne !
Es ist Peters Bruder.

- A) ihn B) sie C) er D) es

6. Berna : Warum fährst du mit dem Fahrrad?
Roland : Ich fahre mit dem Fahrrad, das am billigsten ist.



- A) als B) weil C) denn D) damit

7. Das Auto ist schneller das Fahrrad.

- A) weil B) damit C) denn D) als

8. Berna : Wer ist das?
Peter : Das ist Otto Vater.

- A) – em B) – er C) – es D) – s

9.



Walter : Wo ist die schwarze Katze?

Brigitte : Die schwarze Katze ist Tisch.

- A) auf dem B) auf der
C) in der D) auf den

10. Aşağıda verilen sözcüklerden hangisi anlam yönünden diğerlerinden farklıdır?

- A) lesen B) schön C) fleissig D) schnell

11. Aşağıda verilen sözcüklerden hangisi diğerlerinden farklıdır?

A) Tee

B) Mineralwasser

C) Mehl

D) Cola

12. Städte / kennenlernen / Ich / neue / möchte
1 2 3 4 5

Yukarıdaki kelimelerden anlamlı bir cümle oluşturulduğunda sıralama nasıl olmalıdır?

- A) 1 / 3 / 5 / 4 / 2 B) 2 / 4 / 5 / 2 / 3
C) 1 / 2 / 3 / 4 / 5 D) 3 / 5 / 4 / 1 / 2

13. fleissiger / Hans / als / ist / Walter.
1 2 3 4 5

Yukarıdaki kelimelerden anlamlı bir cümle oluşturulduğunda sıralama nasıl olmalıdır?

- A) 2 / 1 / 4 / 3 / 5 B) 5 / 1 / 2 / 3 / 4
C) 2 / 4 / 1 / 3 / 5 D) 4 / 3 / 5 / 2 / 1

14. – 15. karşılıklı konuşma sorularında boş bırakılan yerlere uygun düşen sözcük veya ifadeyi bulunuz.

14. Ali : Guten Morgen!
Ayşe : Guten Morgen!
Ali : Woher kommst du?
Ayşe : Ich komme İstanbul.
Wohin gehst du Ali?
Ali : Ich will Theater gehen.
Vielen Dank!
Ayşe : Bitte sehr!
- A) aus / ins B) ins / aus
C) nach / zu D) um / zu

15. Müller : Guten Abend
Helga : Guten Abend
Müller : Ich heiße Müller
Wie heißen sie?
Helga : Ich heiße Helga.
Müller : Wie geht es Ihnen?
Helga : Danke, es geht
Und Ihnen?
Müller : Danke, mir geht es auch gut!
Helga : Auf Wiedersehen!
Müller : Auf Wiedersehen!
- A) gut dir B) mir geht
C) mir gut D) uns schön

FRANSIZCA

1. Aşağıdaki cümlelerin sorusu hangi seçenekte doğru verilmiştir?

Je vais au cinéma tous les vendredi.

- A) Est-ce que tu aimes le cinéma?
B) Quand est-ce que tu vas au cinéma?
C) Comment est-ce que vous faites des films?
D) Combien est-ce que vous avez de cinémas?

2. Aşağıdakilerden hangisi emir (impératif) cümlesi değildir?

- A) Mettez la viande sur la table.
B) Ne marche pas beaucoup.
C) Il ne faut pas manger beaucoup.
D) Achète la voiture rouge.

- 3.



İstanbul



Ankara



Trabzon



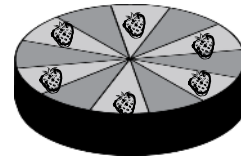
Erzurum

Verilen resimden yararlanarak aşağıdaki sorunun cevabını bulunuz.

Quel temps fera t-il à Ankara?

- A) Il y aura des nuages.
B) Il y aura de la neige.
C) Il y aura de la pluie.
D) Il y aura du soleil.

4. Resimdeki pastayı yapmak için aşağıdakilerden hangisi gerekmez?



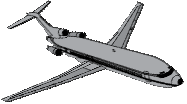



- A) Il faut du sucre. B) Il faut du savon.
C) Il faut du lait. D) Il faut de la farine.

5. Aşağıdaki kelimeler gruplandırıldığında hangisi bu grubun dışında kalır?

- A) Professeur B) Acteur
C) Coiffeur D) Bonheur

6. Aşağıdaki cümlede ifade edilen olay hangi resimle ilişkilidir?

J'aime voyager en voiture.

- A)  B) 
C)  D) 

7. Karışık olarak verilmiş sözcüklerden anlamlı bir cümle oluşturulursa doğru sıralama hangisi olur?

est / rapide / l'avion / que / plus / le train
1 2 3 4 5 6

- A) 4 / 6 / 3 / 2 / 1 / 5 B) 6 / 1 / 3 / 2 / 4 / 5
C) 6 / 5 / 3 / 1 / 2 / 4 D) 3 / 1 / 5 / 2 / 4 / 6

8. Resme bakarak cümlede boş bırakılan yere uygun düşen sözcüğü bulunuz.



Je veux des, c'est combien le kilo?

- A) oranges B) tomates
C) pommes D) raisins

9. -11. sorularda verilen cümlede boş bırakılan yere uygun düşen sözcük ya da ifadeyi bulunuz.

9. Céline mange salade.

- A) de la B) de C) du D) des

10. Mon frère et moi, prenons le bus.

- A) nous B) elles C) vous D) nos

11. Tes sœurs sont de la maison.

- A) sortis B) sortie C) sorties D) sorti

12. Resme göre aşağıdaki sorunun cevabı hangisidir?



Qu'est-ce qu'il fait?

- A) Il fait du sport.
B) Il y a deux guitares.
C) Il cherche la guitare.
D) Il joue de la guitare.

13. Resimdeki kıza bakarak yanlış olan seçeneği işaretleyiniz.

- A) Elle est maigre.
B) Elle est jeune.
C) Elle a des lunettes.
D) Elle a les cheveux longs.



14. Yandaki resme bakarak sorunun cevabını bulunuz.

Qu'est-ce qu'il boit?

- A) Il boit du lait. B) Il boit du café.
C) Il boit du coca. D) Il boit du thé.



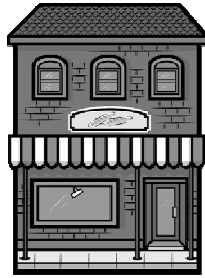
15. Aşağıdaki sorunun cevabı hangisinde doğru verilmiştir?

Où est-ce qu'il faut aller, pour acheter de la viande?

A) Pharmacie




B) Pâtisserie



C) Boucherie




D) Poste



İTALYANCA

1. Aşağıdaki cümlede boş bırakılan yere ve altı çizili olan sayıya uygun gelen seçeneği işaretleyiniz.



Mio fratello (diciotto) anni.

- A) ha/8 B) ha/18
C) ho/18 D) hai/18

2. Aşağıdaki konuşmada boş bırakılan yere uygun gelen seçeneği işaretleyiniz.

A: A che ora cominciano le lezioni?
B: Cominciano alle (14:15)

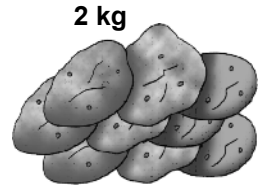
- A) quattordici e cinque
B) quindici e quattordici
C) quattordici e quindici
D) quindici e un quarto

3. Aşağıdaki konuşmada boş bırakılan yere uygun gelen seçeneği işaretleyiniz.

Ieri notte non (io) dormito bene.

- A) ho B) ha C) sono D) sei

4. Resmi dikkate alarak boşluğa uygun gelen seçeneği işaretleyiniz.



Abbiamo comprato due di patate.

- A) litri B) chili
C) bicchieri D) bottiglie

5. Aşağıdaki cümlede boş bırakılan yere uygun gelen seçeneği işaretleyiniz.

Ogni giorno torno a casa alle 19:00. Anche ieri tornato alle 19:00.

A) hai B) ha C) ho D) sono

6. Aşağıdaki cümlede boş bırakılan yere uygun gelen seçeneği işaretleyiniz.



A: A che ora sei arrivato?

B: a mezzanotte.

A) sono arrivata B) sono arrivato
C) sono arrivati D) sono arrivate

7. Aşağıdaki cümlede boş bırakılan yere uygun gelen seçeneği işaretleyiniz.

A: Oggi nevica. Anche domani

A) è nevicato B) ha nevicato
C) nevica D) nevicherà

8. Aşağıdaki cümlede boş bırakılan yere uygun gelen seçeneği işaretleyiniz.

Oggi sarà piovoso, noi non

A) uscirò B) uscirete
C) uscirà D) usciremo

9. Aşağıdaki konuşmada boş bırakılan yere uygun gelen seçeneği işaretleyiniz.



Come farà il tempo domani?

.....

A: Come farà il tempo domani?

B: (piovere)

A) pioverà B) pioveremo
C) pioverò D) pioverai


10. Aşağıdaki konuşmada boş bırakılan yere uygun gelen seçeneği işaretleyiniz.

A: Studi molto?

B: No, studio

A) poco B) troppo
C) abbastanza D) molto

11. Resmi dikkate alarak boşluğa uygun gelen ifadeyi işaretleyiniz.



..... costa un chilo di mele?

A) chi B) quale C) quanto D) quando

12. Aşağıdaki cümlede boş bırakılan yere uygun gelen seçeneği işaretleyiniz.

.....volentieri, ma non ho tempo.

- A) usciresti B) uscirebbe
C) usciremmo D) uscirei

13. Aşağıdaki iki ismi karşılaştırınız ve uygun seçeneği işaretleyiniz.

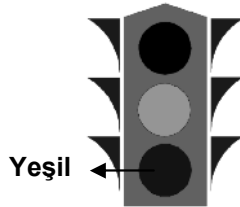


la macchina – l'aereo

- A) la macchina è più veloce dell'aereo
B) la macchina è più costosa dell'aereo
C) l'aereo è più veloce della macchina
D) l'aereo è più economico della macchina

14. Resmi dikkate alarak boşluğa uygun gelen seçeneği işaretleyiniz.

Passa !



- A) al semaforo verde B) al semaforo rosso
C) al semaforo giallo D) al semaforo bianco

15. Aşağıdaki cümlede boş bırakılan yere uygun gelen seçeneği işaretleyiniz.

A: Quanti libri hai?

B: Leggo molto. Ho libri.

- A) pochi B) uno C) molti D) poche

TEST BİTTİ.

CEVAPLARINIZI KONTROL EDİNİZ.

Soracağınız bir şey var mı? Varsa şimdi sorunuz; sınav başladıktan sonra sorularınıza cevap verilmeyecektir. Hazır mısınız?

Sınav, okulun bütün salonlarında aynı anda başlayacağı için başlama zilini beraberce bekleyelim.

Hepinize başarılar dileriz.

(Salon başkanı başlama ve bitiş saatini tahtaya yazacaktır.)

Bu soru kitapçığının her hakkı saklıdır. Hangi amaçla olursa olsun, testlerin tamamının veya bir kısmının Millî Eğitim Bakanlığı Eğitim Teknolojileri Genel Müdürlüğünün yazılı izni olmadan kopya edilmesi, fotoğraflarının çekilmesi, bilgisayar ortamına alınması, herhangi bir yolla çoğaltılması, yayımlanması veya başka bir amaçla kullanılması yasaktır. Bu yasağa uymayanlar, doğabilecek cezai sorumluluğu ve kitapçığın hazırlanmasındaki malî külfeti peşinen kabullenmiş sayılır.

**22 HAZİRAN 2008 TARİHİNDE YAPILAN
SEVİYE BELİRLEME SINAVI 7. SINIF A TESTİ SORULARI CEVAP ANAHTARI**

**TÜRKÇE
TESTİ**

1. D
2. B
3. B
4. A
5. C
6. B
7. C
8. A
9. D
10. B
11. A
12. A
13. C
14. D
15. A
16. B
17. C
18. D
19. C
20. A
21. D

**MATEMATİK
TESTİ**

1. A
2. A
3. D
4. B
5. C
6. C
7. D
8. B
9. D
10. B
11. C
12. C
13. A
14. B
15. D
16. A
17. B
18. C

**FEN VE
TEKNOLOJİ
TESTİ**

1. C
2. B
3. A
4. B
5. D
6. A
7. C
8. A
9. C
10. D
11. B
12. D
13. B
14. D
15. A
16. C
17. D
18. C

**SOSYAL BİL.
TESTİ**

1. D
2. C
3. B
4. D
5. B
6. A
7. C
8. A
9. B
10. D
11. A
12. B
13. D
14. C
15. A
16. A
17. C
18. B

**YABANCI DİL
TESTİ**

1. B
2. C
3. A
4. B
5. D
6. B
7. D
8. D
9. A
10. A
11. C
12. D
13. C
14. A
15. C